

Soluciones

- 1 El único polígono que tiene los lados y los ángulos iguales es el pentágono; por tanto, es el único polígono regular.

Clasificación de triángulos II.

● Agudos

● Obtusos

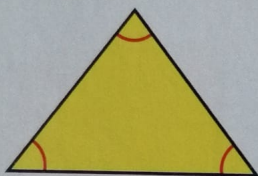


152

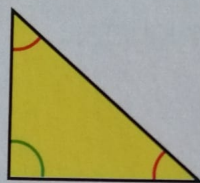
Soluciones

- 1 El triángulo azul es escaleno. El triángulo verde es escaleno.
El triángulo rojo es equilátero. El triángulo naranja es isósceles.

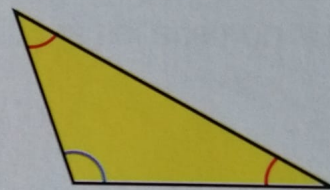
2



T. acutángulo



T. rectángulo



T. obtusángulo